


Amalia Drago

PASITO A PASITO



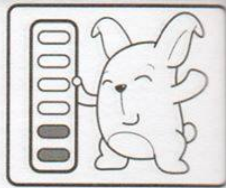
NÚMEROS DEL 1 AL 100

7 A 9 AÑOS


Ediciones

MAWIS

NÚMEROS DEL 1 AL 9




RECORRE LOS NÚMEROS CON TU DEDO ÍNDICE SIGUIENDO LAS DIRECCIONES INDICADAS. LUEGO COLORÉALOS. POR ÚLTIMO, DELINEA LOS NÚMEROS Y COMPLETA LOS RENGLONES.





1 1 1
2 2 2
3 3 3
4 4 4
5 5 5
6 6 6
7 7 7
8 8 8
9 9 9





¡DESFILE!

TRAZA UN CÍRCULO AZUL ALREDEDOR DEL PRIMER CABALLO Y DEL TERCERO. PINTA DE ROJO LA BANDERA DEL ÚLTIMO NIÑO.




HAY CABALLOS. CADA UNO TIENE COLA,

OREJAS, OJOS Y PATAS.

EN TOTAL HAY OREJAS,


OJOS, NIÑOS Y BANDERAS.





NÚMEROS DEL 10 AL 19

RECORRE LOS NÚMEROS CON TU DEDO ÍNDICE SIGUIENDO LAS DIRECCIONES INDICADAS. LUEGO COLORÉALOS. POR ÚLTIMO, DELINEA LOS NÚMEROS Y COMPLETA LOS RENGLONES.



10

10 10 10

11 11 11

12 12 12

13 13 13

14 14 14

15 15 15



16 16 16

17 17 17

18 18 18

19 19 19





¡SUMA Y COLOREA!

PINTA ESTE PAYASITO SEGÚN LOS TONOS INDICADOS POR LOS RESULTADOS DE LAS CUENTAS.

$4+6 =$ CELESTE

$9+2 =$ VERDE OSCURO

$7+5 =$ NARANJA

$8+5 =$ ROSA

$5+9 =$ AMARILLO


$7+8 =$ VIOLETA


$9+7 =$ ROJO

$11+6 =$ MARRÓN

$13+5 =$ VERDE CLARO

$12+7 =$ AZUL






DOCENA

- DIBUJA: • 1 DOCENA DE FLORES
• 1 DOCENA DE PELOTAS





COMPLETA LAS ALAS DE LAS MARIPOSAS PARA QUE SUMADAS DEN 12,
ES DECIR QUE CADA UNA TENGA 1 DOCENA DE MANCHITAS.






UNE LOS PUNTOS Y DESCUBRE QUÉ ANIMALITO DE LA SELVA SE ESCONDE.
LUEGO COLORÉALO.





NÚMEROS DEL 20 AL 29

RECORRE LOS NÚMEROS CON TU DEDO ÍNDICE SIGUIENDO LAS DIRECCIONES INDICADAS. LUEGO COLORÉALOS. POR ÚLTIMO, DELINEA LOS NÚMEROS Y COMPLETA LOS RENGLONES.



20

20 20 20

21 21 21

22 22 22

23 23 23

24 24 24


25 25 25

26 26 26


27 27 27

28 28 28





29 29 29




ANTERIOR Y POSTERIOR





EN LOS CAPARAZONES DE LOS CARACOLES DEL MEDIO HAY UN NÚMERO ESCONDIDO. UNE LOS PUNTOS PARA DESCUBRIRLO Y LUEGO COLOCA EN EL CAPARAZÓN DEL CARACOL DE LA IZQUIERDA EL ANTERIOR Y EN EL DE LA DERECHA EL POSTERIOR.





DECENA

CUENTA LAS FLORES DE A 10 Y ENCIÉRRALAS.
PINTA LAS FLORES QUE QUEDAN SUELTAS Y COMPLETA LAS ORACIONES.



HAY GRUPOS QUEDAN SUELTAS SON EN TOTAL
 DE FLORES. FLORES. DECENAS.

DIBUJA 1 DECENA DE LUNARES EN CADA VAQUITA.
LUEGO CUENTA CUÁNTOS LUNARES TIENE CADA VAQUITA Y COMPLETA EL RECUADRO.





TIENE LUNARES






TIENE LUNARES





ESTA ABEJITA NECESITA LLEGAR A SU COLMENA.
AYÚDALA A ENCONTRAR EL CAMINO NUMERANDO LOS CASILLEROS
DEL RECORRIDO, SIGUIENDO EL ORDEN NUMÉRICO.





NÚMEROS DEL 30 AL 39



RECORRE LOS NÚMEROS CON TU DEDO ÍNDICE SIGUIENDO LAS DIRECCIONES INDICADAS. LUEGO COLORÉALOS. POR ÚLTIMO, DELINEA LOS NÚMEROS Y COMPLETA LOS RENGLONES.



30 30 30

31 31 31

32 32 32

33 33 33

34 34 34

35 35 35


36 36 36

37 37 37

38 38 38

39 39 39







MAYOR A MENOR

ESCRIBE LOS NÚMEROS EN LOS VAGONES CORRESPONDIENTES
ORDENÁNDOLOS DE MAYOR A MENOR.

3	25	32	15	37	29	35
---	----	----	----	----	----	----




7	21	37	12	11	24	1
---	----	----	----	----	----	---




MENOR A MAYOR


ESCRIBE LOS NÚMEROS EN LOS VAGONES, ORDENÁNDOLOS DE MENOR A MAYOR.

33	3	27	18	5	13	38
----	---	----	----	---	----	----





10	6	14	36	2	16	23
----	---	----	----	---	----	----






SUMA Y RESTA

REALIZA LAS SIGUIENTES OPERACIONES Y COLOREA LOS MONITOS CUYO RESULTADO SEA EL NÚMERO QUE ESTÁ EN LA BANANA CORRESPONDIENTE A SU FILA.



DESCUBRE LA ILUSTRACIÓN



COLOREA CONFORME AL SIGUIENTE CÓDIGO

1 AL 5: ROSA CLARO

6 AL 10: VERDE CLARO

11 AL 15: CELESTE


16 AL 20: MARRÓN OCURO


21 AL 25: ROSA OSCURO

26 AL 30: VERDE OSCURO

31 AL 35: MARRÓN CLARO


36 AL 39: AMARILLO







SUMA


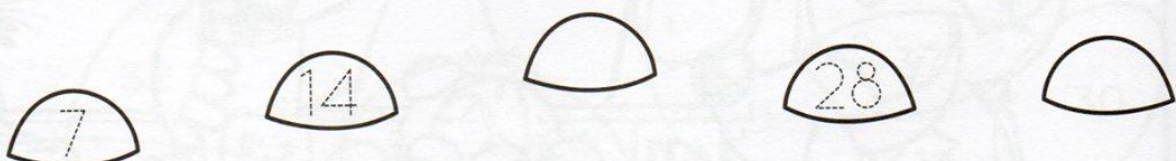

TRAZA UN CÍRCULO AZUL ALREDEDOR DE LO QUE PUEDO COMPRAR CON \$ 29 Y UN CÍRCULO ROJO ALREDEDOR DE LO QUE PUEDO COMPRAR CON \$ 39. LUEGO COLOREA LA ILUSTRACIÓN.




SECUENCIAS



CADA CANGURO RECORRE LAS PIEDRAS SEGÚN
LOS MÚLTIPLOS DE CIERTOS NÚMEROS.
OBSERVA CUÁLES SON Y ESCRIBE LOS NÚMEROS
QUE FALTAN EN DISTINTAS ROCAS.







REPARTIR


¡CUMPLEAÑOS!

CUENTA LOS CAMELOS Y LUEGO DIBÚJALOS EN LAS BOLSITAS,
DE MANERA QUE TODOS TENGAN LA MISMA CANTIDAD.
POR ÚLTIMO, COMPLETA LAS ORACIONES ESCRIBIENDO LOS NÚMEROS
QUE CORRESPONDAN EN LOS CASILLEROS.



HAY CAMELOS Y BOLSITAS.
EN CADA BOLSA HAY CAMELOS
Y SOBRAN CAMELOS.






¡MARIPOSAS SUMADORAS!

COMPLETA EL CUADRO Y ESCRIBE CON AZUL
LOS NÚMEROS MAYORES E IGUALES A 30.



+	1	2	3	4	5	6	7	8	9
1	2								
2		4							
3									
4			7						
5									
6				10					
7									
8									
9									
10									
11									
12									
13									
14									
15									
16									
17									
18									
19									
20									
21									
22						28			
23									
24									
25									
26									
27									
28									
29									
30									





NÚMEROS DEL 40 AL 49

RECORRE LOS NÚMEROS CON TU DEDO ÍNDICE SIGUIENDO LAS DIRECCIONES INDICADAS. LUEGO COLORÉALOS. POR ÚLTIMO, DELINEA LOS NÚMEROS Y COMPLETA LOS RENGLONES.



40 40 40

41 41 41

42 42 42

43 43 43

44 44 44


45 45 45

46 46 46


47 47 47

48 48 48

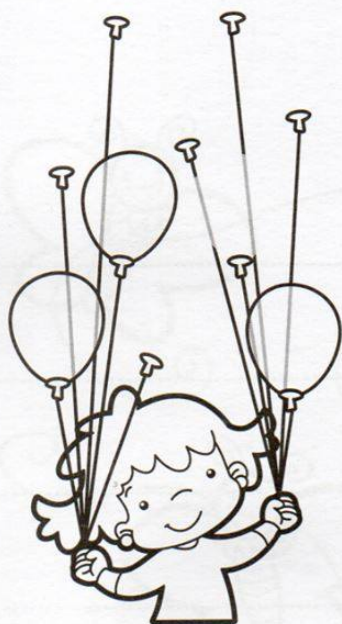
49 49 49



NÚMEROS HASTA EL 49

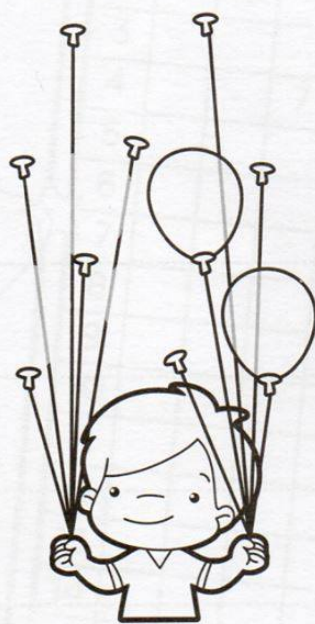


CADA NIÑO TIENE 10 GLOBOS EN SU MANO. DIBUJA LOS QUE LE FALTAN PARA LLEGAR A ESA CANTIDAD. LUEGO COLOREA DE VERDE LOS GLOBOS DEL PRIMER NIÑO, DE AZUL LOS DEL ÚLTIMO Y DE ROJO LOS DEL SEGUNDO NIÑO. EL TERCERO, PÍNTALO DE MUCHOS COLORES.



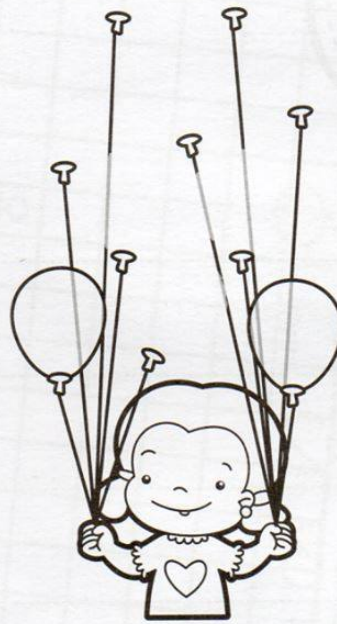
10

+




10

+



10

+



10


HAY EN TOTAL

GLOBOS

¡A ORDENAR DE MENOR A MAYOR!
COLOCA LOS NÚMEROS DENTRO DE CADA CUBO DE MODO QUE SIGAN LA SERIE NUMÉRICA.


43 - 47 - 42 - 45 - 49 - 40





NÚMEROS HASTA EL 49

UNE CADA NÚMERO DE LAS MANZANAS CON SU NOMBRE CORRESPONDIENTE.



CUARENTA Y TRES

TRECE

VEINTICINCO

TREINTA

DOCE

CUATRO

CUARENTA Y CINCO


TREINTA Y SEIS

VEINTIDÓS



CUARENTA Y NUEVE




DOCENAS



EL FRUTERO TIENE QUE LLENAR LOS CAJONES CON UNA DOCENA DE MANZANAS CADA UNO. DIBUJA LAS QUE FALTAN EN CADA CASO Y COLOREA COMO MÁS TE GUSTE.





SUMA

¡TIRO AL BLANCO!

CALCULA EL PUNTAJE QUE HIZO CADA UNO DE LOS NIÑOS.





PUNTOS

PUNTOS



PUNTOS

PUNTOS

MARÍA SACÓ 47 PUNTOS. ¿DÓNDE CAYERON SUS 3 DARDOS PARA SUMAR ESE PUNTAJE?



RELACIONAR



RESUELVE LOS EJERCICIOS Y COLOREA LOS BANDERINES.
ROJO: 24 VERDE: 37 AMARILLO: 45

13+11

27-3

40-3

10+14

30+7

16+8

20+25

31+6


45-8

49-4







12+33


11+34





RECORTA LOS NÚMEROS INCLUIDOS EN ESTE LIBRO Y PÉGALOS EN LOS CARTELES QUE TIENEN LOS CABALLITOS. EN LA FILA DE LA IZQUIERDA PEGA LOS NÚMEROS ANTERIORES A LOS DADOS, Y EN LA DERECHA, LOS POSTERIORES.





RECORRE LOS NÚMEROS CON TU DEDO ÍNDICE SIGUIENDO LAS DIRECCIONES INDICADAS. LUEGO COLORÉALOS. POR ÚLTIMO, DELINEA LOS NÚMEROS Y COMPLETA LOS RENGLONES.

50

50 50 50

51 51 51

52 52 52

53 53 53

54 54 54

55 55 55

56 56 56



57 57 57

58 58 58


59 59 59




NÚMEROS DEL 50 AL 59



CADA RANA TIENE UN NÚMERO EN SU PANZA. SOBRE LA LÍNEA PUNTEADA, ESCRIBE SU NOMBRE EN LETRAS.





MAYOR - MENOR - IGUAL

¡COMPARAMOS NÚMEROS!

CUANDO UN NÚMERO ES MAYOR, MENOR O IGUAL QUE OTRO Y QUEREMOS REALIZAR UNA COMPARACIÓN USAMOS ESTOS SÍMBOLOS:



EL SÍMBOLO $>$ SE UTILIZA PARA INDICAR QUE UN NÚMERO ES MAYOR QUE OTRO. EL EXTREMO ABIERTO DEBE SEÑALAR HACIA EL NÚMERO MÁS GRANDE Y EL EXTREMO QUE TERMINA EN PUNTA AL NÚMERO MÁS PEQUEÑO.

$18 > 7$ SE LEE: 18 ES MAYOR A 7

EL SÍMBOLO $<$ SE UTILIZA PARA INDICAR QUE UN NÚMERO ES MENOR QUE OTRO. EL EXTREMO QUE TERMINA EN PUNTA SEÑALA AL NÚMERO MÁS PEQUEÑO Y EL EXTREMO ABIERTO AL MAYOR.

$15 < 36$ SE LEE: 15 ES MENOR A 36

SI AMBOS NÚMEROS SON EXACTAMENTE IGUALES ENTONCES UTILIZAMOS EL SIGNO $=$.


$56 = 56$
SE LEE: 56 ES IGUAL QUE 56

¡AHORA LO PRACTICAMOS!


COMPLETA CON EL SIGNO QUE CORRESPONDA SEGÚN CADA COMPARACIÓN




SUMAS



¡FALTAN LOS RESULTADOS!
A ESTE CARACOL LE FALTAN LOS RESULTADOS DE LAS SUMAS Y RESTAS.
¿PUEDES COMPLETARLO?




ANTERIOR Y POSTERIOR





ESCRIBE EL ANTERIOR Y EL POSTERIOR A LOS NÚMEROS QUE ESTÁN DENTRO DE LAS COPAS DE LOS ÁRBOLES.





RECORRE LOS NÚMEROS CON TU DEDO ÍNDICE SIGUIENDO LAS DIRECCIONES INDICADAS. LUEGO COLORÉALOS. POR ÚLTIMO, DELINEA LOS NÚMEROS Y COMPLETA LOS RENGLONES.



60 60 60

61 61 61

62 62 62

63 63 63

64 64 64

65 65 65



66 66 66

67 67 67


68 68 68

69 69 69





DIBUJA EN EL CUERPO DE CADA CEBRA LAS RAYAS QUE LES FALTAN PARA QUE CADA UNA DE ELLAS TENGA 10.
 EN EL CASILLERO ANOTA CUÁNTAS RAYAS HICISTE EN CADA CASO.
 LUEGO ENCIERRA CON UN CÍRCULO AZUL A LA CEBRA A LA QUE MÁS RAYAS LE DIBUJASTE Y CON ROJO A LA QUE MENOS RAYAS LE DIBUJASTE.



DIBUJÉ RAYAS



DIBUJÉ RAYAS



DIBUJÉ RAYAS




DIBUJÉ RAYAS




DIBUJÉ RAYAS



DIBUJÉ RAYAS





EL VALOR DE LA POSICIÓN



ESCRIBE EN LETRAS DEBAJO DE CADA NÚMERO SU DESCOMPOSICIÓN EN DECENAS Y UNIDADES. LUEGO UNE CON LA FICHA DEL ROMPECABEZAS QUE TENGA ESA CANTIDAD DE OBJETOS.

45

.....
DECENAS

.....
UNIDADES

☆☆☆☆☆☆
☆☆☆☆☆☆
☆☆☆☆☆☆☆
☆☆☆☆☆☆
☆☆☆☆☆☆☆
☆☆☆☆☆☆☆
☆☆☆☆☆☆
☆☆☆☆☆☆
☆☆☆☆☆☆
☆☆☆☆☆☆
☆☆☆☆☆☆

☆☆☆ ☆
☆☆☆ ☆
☆☆☆ ☆
☆☆☆ ☆
☆☆☆ ☆
☆☆☆ ☆
☆☆☆ ☆
☆☆☆ ☆
☆☆☆ ☆
☆☆☆ ☆
☆☆☆ ☆

28

.....
DECENAS

.....
UNIDADES

39

.....
DECENAS

.....
UNIDADES

☆☆☆☆☆ ☆
☆☆☆☆☆ ☆
☆☆☆☆☆ ☆
☆☆☆☆☆ ☆
☆☆☆☆☆ ☆
☆☆☆☆☆ ☆
☆☆☆☆☆ ☆
☆☆☆☆☆ ☆
☆☆☆☆☆ ☆
☆☆☆☆☆ ☆
☆☆☆☆☆ ☆

☆☆☆☆ ☆
☆☆☆☆ ☆
☆☆☆☆ ☆
☆☆☆☆ ☆
☆☆☆☆ ☆
☆☆☆☆ ☆
☆☆☆☆ ☆
☆☆☆☆ ☆
☆☆☆☆ ☆
☆☆☆☆ ☆
☆☆☆☆ ☆

17

.....
DECENAS

.....
UNIDADES

56

.....
DECENAS

.....
UNIDADES

☆☆ ☆
☆☆ ☆
☆☆ ☆
☆☆ ☆
☆☆ ☆
☆☆ ☆
☆☆ ☆
☆☆ ☆
☆☆ ☆
☆☆ ☆
☆☆ ☆

☆☆ ☆
☆☆ ☆
☆☆ ☆
☆☆ ☆
☆☆ ☆
☆☆ ☆
☆☆ ☆
☆☆ ☆
☆☆ ☆
☆☆ ☆
☆☆ ☆


62

.....
DECENAS


.....
UNIDADES




FORMAS GEOMÉTRICAS



DESCUBRE LAS FORMAS GEOMÉTRICAS EN LA ILUSTRACIÓN Y COLORÉALAS. LUEGO ESCRIBE DEBAJO, JUNTO A CADA FIGURA DE REFERENCIA, LA CANTIDAD QUE HAY DE CADA UNA.




HAY  HAY  HAY  HAY 



¿VERDADERO O FALSO?

REALIZA LAS SUMAS Y RESTAS Y DETERMINA SI SUS RESULTADOS SON VERDADEROS O FALSOS, COLOCANDO UNA V O UNA F A SU LADO SEGÚN CORRESPONDA.



$42 + 27 = 69$

V o F

$62 - 13 = 47$

$14 + 22 = 34$



V o F

$16 + 12 = 28$

$40 - 25 = 15$

$39 + 19 = 56$




V o F


$22 + 33 = 62$

$66 - 27 = 39$


$25 + 18 = 43$



SUMAR, RESTAR Y RELACIONAR




COMPLETA EL ARCOÍRIS CON LOS NÚMEROS DEL 60 AL 69.
EN CADA ARCO APARECERÁ UNO DE ESTOS NÚMEROS.
RESUELVE LAS SUMAS DE ABAJO Y OBTENDRÁS EL SISTEMA DE
REFERENCIAS PARA COLOREAR LOS ARCOS.



AMARILLO	$40 + 20 = 60$	Y	$60 + 9 = \square$
NARANJA	$33 + 33 = \square$	Y	$24 + 39 = \square$
ROJO	$16 + 46 = \square$	Y	$34 + 33 = \square$
VIOLETA	$41 + 27 = \square$	Y	$35 + 26 = \square$
AZUL	$54 + 10 = \square$	Y	$35 + 30 = \square$




















ANTERIOR Y POSTERIOR

¡UNO MÁS, UNO MENOS!

LAS FICHAS DE DOMINÓ TE INDICAN UN NÚMERO. LA PARTE DE LA IZQUIERDA INDICA LAS DECENAS Y LA DE LA DERECHA, LAS UNIDADES. DE ACUERDO A ESTO, COLOCA EN LA LÍNEA PUNTEADA DE LA IZQUIERDA EL NÚMERO ANTERIOR Y EN LA DERECHA EL POSTERIOR.





RECORRE LOS NÚMEROS CON TU DEDO ÍNDICE SIGUIENDO LAS DIRECCIONES INDICADAS. LUEGO COLORÉALOS. POR ÚLTIMO, DELINEA LOS NÚMEROS Y COMPLETA LOS RENGLONES.



70 70 70

71 71 71

72 72 72

73 73 73

74 74 74


75 75 75

76 76 76

77 77 77

78 78 78


79 79 79





¡CUMPLEAÑOS!

LA MAMÁ DE MARTÍN HIZO CUPCAKES PARA ENTREGAR A LOS 76 INVITADOS AL CUMPLEAÑOS. AYÚDALA A CALCULAR SI TODAVÍA LE FALTA HACER ALGUNOS MÁS. PARA ESTO, SEPÁRALOS EN GRUPOS DE A 10 ENCERRÁNDOLOS EN UN CÍRCULO. LUEGO, COMPLETA LAS ORACIONES. AL FINALIZAR PUEDES COLOREARLOS.



HAY EN TOTAL GRUPOS DE 10 CUPCAKES


Y CUPCAKES QUEDAN SIN AGRUPAR.

EN TOTAL HAY CUPCAKES

Y FALTAN PARA COMPLETAR TODOS LOS INVITADOS.



NÚMEROS ESCRITOS



¡A COMPLETAR!

COMPLETA EL CRUCIGRAMA CON LOS NÚMEROS DEL 70 AL 79 ESCRITOS EN LETRAS. TE DEJAMOS COMO AYUDITA LOS NÚMEROS, PARA QUE VAYAS TACHANDO A MEDIDA QUE LOS UBIQUES ¡Y NO OLVIDES NINGUNO!

74

77

70

75

76

71

79

78

73







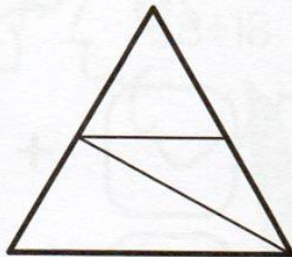


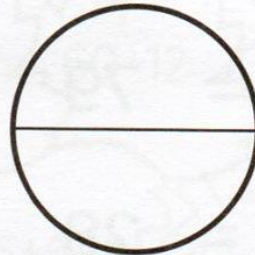
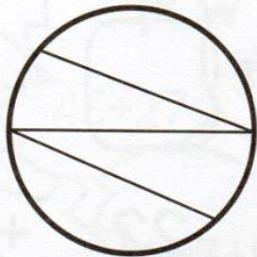
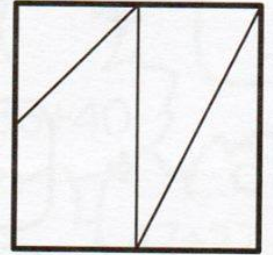
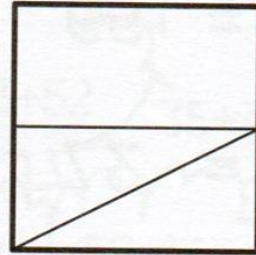


72






PARTES IGUALES

EN CADA CATEGORÍA, HAZ UN CÍRCULO AZUL ALREDEDOR DE LA FIGURA QUE TENGA SUS PARTES IGUALES, Y A LAS QUE NO TENGAN PARTES IGUALES HAZLES UNA CRUZ ROJA.



COMPLETAR OPERACIONES



¿QUÉ NÚMERO FALTA?

EN ESTAS OPERACIONES FALTAN ALGUNOS NÚMEROS.
COMPLETA PARA QUE PUEDA ALCANZAR EL RESULTADO.

$$\square + 9 = 59$$

$$15 + \square = 37$$


$$24 + \square = 46$$

$$\square + 11 = 79$$

$$\square + 17 = 28$$

$$8 + \square = 64$$

$$\square + 47 = 68$$



$$\square - 12 = 76$$

$$22 + \square = 41$$


$$79 - \square = 63$$


$$\square + 11 = 70$$

$$\square - 22 = 57$$

$$39 + \square = 74$$

$$\square - 17 = 35$$







COLOREA SEGÚN REFERENCIA


¡LLEGÓ EL OTOÑO!

LAS HOJAS DE LOS ÁRBOLES COMIENZAN A CAMBIAR SU COLOR.
COLORÉALAS SEGÚN LA REFERENCIA QUE ENCUENTRAS DEBAJO.



AMARILLO: 70, 74, 76 VERDE: 73, 77 MARRÓN: 71, 72, 79 ROJO: 75, 78






¡HALLOWEEN!

EN CADA SECUENCIA DE NÚMEROS, UNO DE ELLOS HA DESAPARECIDO Y EN SU LUGAR SE HA COLOCADO UNA ILUSTRACIÓN DE HALLOWEEN. COLOCA JUNTO A CADA DIBUJO EL NÚMERO QUE CORRESPONDE.

49, 50, , 52

53, 54, 55, 


38, 39, , 41

, 38, 39, 40


21, , 23, 24

67, 68, 69, 

62, , 64, 65


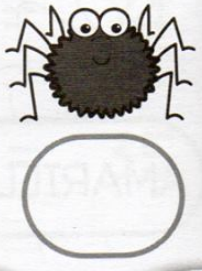

, 77, 78, 79


58, , 60, 61

69, 70, 71, 

45, 46, , 48


, 30, 31, 32





NÚMEROS DEL 80 AL 89

RECORRE LOS NÚMEROS CON TU DEDO ÍNDICE SIGUIENDO LAS DIRECCIONES INDICADAS. LUEGO COLORÉALOS. POR ÚLTIMO, DELINEA LOS NÚMEROS Y COMPLETA LOS RENGLONES.



80 80 80

81 81 81

82 82 82

83 83 83

84 84 84

85 85 85



86 86 86

87 87 87


88 88 88

89 89 89






¡CADA ABEJA EN SU PANAL!
SEPARA LAS ABEJAS EN GRUPOS DE 10 CON UN CÍRCULO AZUL,
PARA QUE HAYA LA MISMA CANTIDAD PARA CADA PANAL.
LUEGO COMPLETA LAS ORACIONES.




HAY PANALES DE ABEJAS, CON 10 ABEJAS
CADA UNO.
EN TOTAL SON ABEJAS.





UNIR PUNTOS


SIGUE EL ORDEN NUMÉRICO Y UNE LOS PUNTOS PARA DESCUBRIR LA ILUSTRACIÓN. LUEGO ESCRIBE EN LETRAS EL ÚLTIMO NÚMERO AL QUE LLEGASTE.



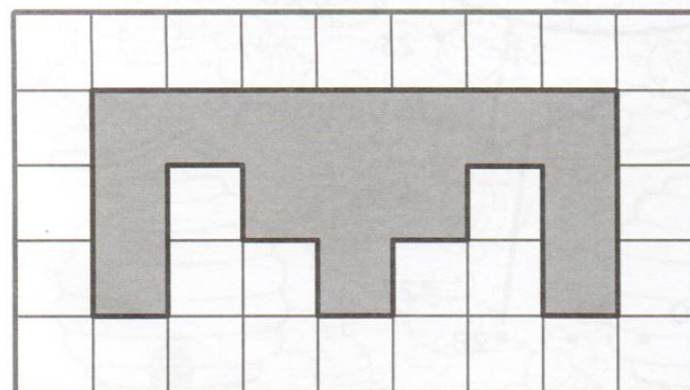


LLEGUÉ
HASTA EL
NÚMERO:




DIBUJAR FORMAS



COPIA LAS FIGURAS DE LA IZQUIERDA EN LA GRILLA QUE ESTÁ A LA DERECHA.





¡COMPLETA LA HISTORIETA!

COMPLETA EL FINAL DE CADA HISTORIETA
CON EL NÚMERO QUE CORRESPONDE.



TENGO 67
CARAMELOS



ME COMÍ 5



ME QUEDAN
CARAMELOS



TENGO 54
LÁPICES



ME REGALARON
35 MAS



EN TOTAL TENGO
..... LÁPICES



TENGO 72
FIGURITAS




LE REGALÉ 28
A MI HERMANO



EN TOTAL TENGO
..... FIGURITAS




ANTERIOR Y POSTERIOR





COMPLETA SEGÚN CORRESPONDA DONDE ESTÉ UBICADA LA LÍNEA PUNTEADA, EL ANTERIOR O EL POSTERIOR DE CADA NÚMERO.





NÚMEROS DEL 90 AL 99

RECORRE LOS NÚMEROS CON TU DEDO ÍNDICE SIGUIENDO LAS DIRECCIONES INDICADAS. LUEGO COLORÉALOS. POR ÚLTIMO, DELINEA LOS NÚMEROS Y COMPLETA LOS RENGLONES.



90 90 90

91 91 91

92 92 92

93 93 93

94 94 94

95 95 95



96 96 96

97 97 97

98 98 98

99 99 99





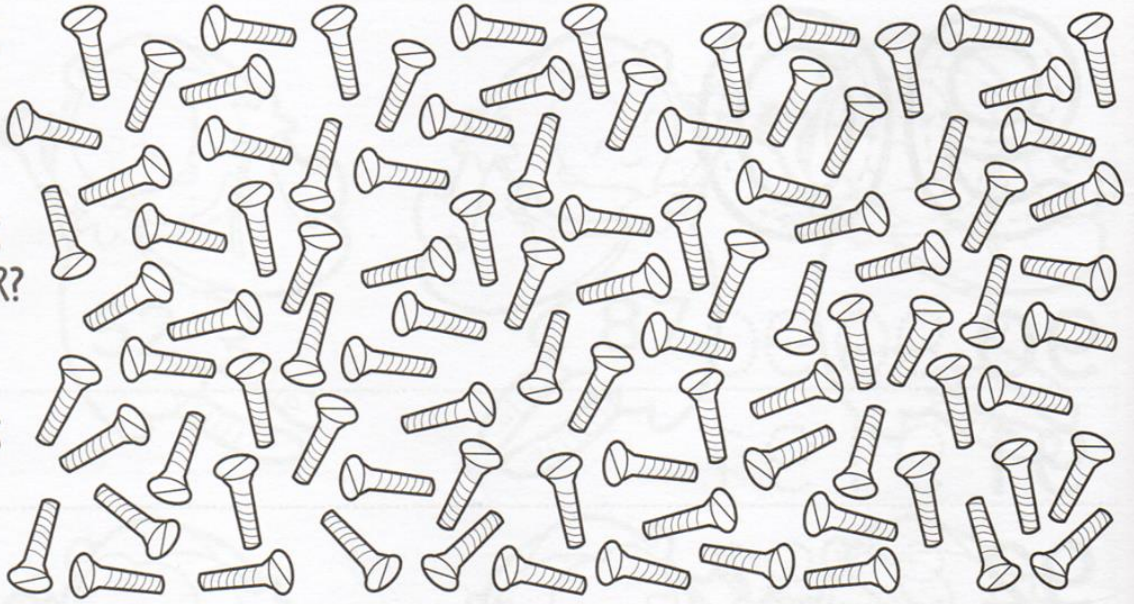
¡TORNILLOS DESORDENADOS!

AL CARPINTERO SE LE HAN DESORDENADO TODOS LOS TORNILLOS Y NO SABE SI LE ALCANZAN PARA LA BIBLIOTECA QUE TIENE QUE ARMAR. AGRÚPALOS DE A 10. AL FINAL COMPLETA LAS PREGUNTAS:


¿CUÁNTOS GRUPOS DE 10 HAS ARMADO?

¿CUÁNTOS TORNILLOS QUEDARON SIN AGRUPAR?

¿CUÁNTOS TORNILLOS HAY EN TOTAL?



RECORTA LOS NÚMEROS QUE ESTÁN INCLUIDOS EN EL LIBRO Y COMPLETA LA SECUENCIA DE LOS SOMBREROS.





¡CAMBIAMOS FIGURITAS!
SEÑALA CON UNA X LA QUE ESTÁN PIDIENDO.



NOVENTA Y OCHO




SESENTA Y DOS



TREINTA Y CINCO








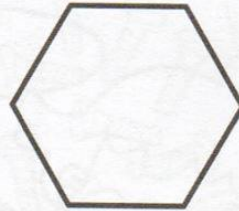

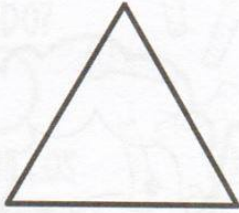



DIBUJA FORMAS



¡A DIBUJAR!

UTILIZA LA PIZARRA DE REFERENCIA PARA PODER DIBUJAR LAS SIGUIENTES FORMAS, Y LOS PUNTOS PARA PODER DIBUJAR CADA ARISTA.





FAMILIA DE NÚMEROS



COMPLETA LOS NÚMEROS DE CADA CAMINO, TENIENDO EN CUENTA EL PRIMERO INDICADO. LUEGO PINTA CON COLOR ROJO LOS NÚMEROS QUE DEN COMO RESULTADO LAS SIGUIENTES OPERACIONES.

$35 + 4$



















$5 + 6$

$66 - 24$

$95 - 8$

$46 - 14$

$15 + 29$

	10	
	20	
	30	
	40	
	50	
	60	
	70	
	80	
	90	



DESCUBRE LA ILUSTRACIÓN



COLOREA RESPETANDO EL SIGUIENTE CÓDIGO:

27 = VERDE CLARO

39 = VERDE OSCURO

45 = CELESTE

62 = MARRÓN

75 = AMARILLO

81 = ROJO


57 = AZUL

99 = NARANJA

REALIZA LAS OPERACIONES Y BUSCA EL RESULTADO.

Grid of math problems and results:


- $43+14$, $82-25$, $43+14$, $82-25$, $43+14$, $82-25$, $43+14$, $82-25$, $43+14$, $82-25$, $43+14$
- $12+33$, $82-25$, $43+14$, $82-25$, $43+14$, $39+36$, $97-22$, $55-28$, $82-25$, $43+14$, $12+33$, $82-25$, $43+14$
- $68-23$, $43+14$, $82-25$, $43+14$, $82-25$, $39+36$, $97-22$, $55-28$, $18+9$, $82-25$, $68-23$, $82-25$, $43+14$
- $43+14$, $82-25$, $43+14$, $82-25$, $39+36$, $97-22$, $82-25$, $43+14$, $82-25$, $43+14$, $82-25$, $43+14$
- $82-25$, $43+14$, $82-25$, $43+14$, $82-25$, $55-28$, $18+9$, $43+14$, $82-25$, $43+14$, $82-25$, $43+14$
- $43+14$, $68-23$, $82-25$, $43+14$, $82-25$, $72+27$, $68+31$, $72+27$, $68+31$, $82-25$, $82-25$, $12+33$
- $82-25$, $12+33$, $43+14$, $82-25$, $72+27$, $68+31$, $72+27$, $68+31$, $43+14$, $82-25$, $12+33$, $82-25$
- $43+14$, $82-25$, $68-23$, $43+14$, $82-25$, $92-11$, $68+31$, $12+33$, $68-23$, $12+33$, $82-25$, $43+14$
- $82-25$, $43+14$, $68-23$, $43+14$, $82-25$, $72+27$, $68+31$, $72+27$, $68-23$, $72+27$, $82-25$, $82-25$
- $43+14$, $82-25$, $43+14$, $72+27$, $68+31$, $72+27$, $68+31$, $68-23$, $72+27$, $82-25$, $82-25$
- $82-25$, $92-11$, $44+37$, $82-25$, $68+31$, $72+27$, $68+31$, $68+31$, $39+36$, $97-22$, $39+36$, $82-25$
- $43+14$, $44+37$, $82-25$, $92-11$, $39+36$, $97-22$, $72+27$, $68+31$, $97-22$, $39+36$, $97-22$, $97-22$
- $82-25$, $92-11$, $39+36$, $97-22$, $72+27$, $68+31$, $97-22$, $39+36$, $97-22$, $39+36$, $97-22$, $92-11$
- $73-11$, $97-22$, $68-23$, $44+37$, $39+36$, $97-22$, $97-22$, $39+36$, $97-22$, $39+36$, $97-22$, $44+37$
- $21+41$, $39+36$, $68-23$, $44+37$, $39+36$, $97-22$, $97-22$, $39+36$, $97-22$, $39+36$, $97-22$, $44+37$
- $73-11$, $18+9$, $97-22$, $39+36$, $97-22$, $68+31$, $97-22$, $39+36$, $97-22$, $39+36$, $97-22$, $44+37$
- $21+41$, $39+36$, $55-28$, $97-22$, $39+36$, $97-22$, $39+36$, $97-22$, $39+36$, $97-22$, $44+37$, $92-11$
- $73-11$, $21+41$, $97-22$, $97-22$, $18+9$, $55-28$, $18+9$, $55-28$, $18+9$, $55-28$, $92-11$, $92-11$
- $21+41$, $39+36$, $55-28$, $97-22$, $39+36$, $97-22$, $18+9$, $55-28$, $18+9$, $55-28$, $44+37$, $92-11$
- $73-11$, $44+37$, $97-22$, $97-22$, $39+36$, $97-22$, $39+36$, $97-22$, $39+36$, $97-22$, $44+37$, $92-11$
- $21+41$, $92-11$, $39+36$, $97-22$, $39+36$, $97-22$, $39+36$, $97-22$, $39+36$, $97-22$, $44+37$, $92-11$
- $73-11$, $44+37$, $21+41$, $97-22$, $39+36$, $97-22$, $39+36$, $97-22$, $39+36$, $97-22$, $44+37$, $92-11$
- $21+41$, $21+41$, $73-11$, $97-22$, $39+36$, $97-22$, $39+36$, $97-22$, $39+36$, $97-22$, $44+37$, $92-11$
- $73-11$, $21+41$, $73-11$, $97-22$, $39+36$, $97-22$, $39+36$, $97-22$, $39+36$, $97-22$, $44+37$, $92-11$
- $21+41$, $73-11$, $21+41$, $97-22$, $39+36$, $97-22$, $39+36$, $97-22$, $39+36$, $97-22$, $44+37$, $92-11$
- $21+41$, $73-11$, $21+41$, $97-22$, $39+36$, $97-22$, $39+36$, $97-22$, $39+36$, $97-22$, $44+37$, $92-11$
- $21+41$, $73-11$, $21+41$, $97-22$, $39+36$, $97-22$, $39+36$, $97-22$, $39+36$, $97-22$, $44+37$, $92-11$



ANTERIOR Y POSTERIOR



¿QUÉ NÚMERO SE ESCONDE EN LA CAMISETA DEL MEDIO?

COLOCA EL NÚMERO QUE CORRESPONDA TENIENDO EN CUENTA EL ANTERIOR Y EL POSTERIOR.




59		61	21		23
37		39	45		47
14		16	62		64
70		72	93		95
89		91	56		58





RECORRE LOS NÚMEROS CON TU DEDO ÍNDICE SIGUIENDO
LAS DIRECCIONES INDICADAS. LUEGO COLORÉALOS.
POR ÚLTIMO, DELINEA LOS NÚMEROS Y COMPLETA LOS RENGLONES.



100 100 100

100 100 100

100 100 100

100 100 100

100 100 100

100 100 100

100 100 100

100 100 100


100 100 100

100 100 100






DIBUJA A CADA LEOPARDO LAS MANCHAS QUE LE FALTAN
PARA LLEGAR A 10.
LUEGO COMPLETA LAS PREGUNTAS.



¿CUÁNTAS MANCHAS EN TOTAL
TIENEN TODOS LOS LEOPARDOS?







UNE LOS PUNTOS SIGUIENDO EL ORDEN NUMÉRICO Y DESCUBRE
¡UN PERSONAJE MISTERIOSO!




CUENTA DE 10 EN 10, Y COLOCA EL NÚMERO QUE CORRESPONDA DENTRO DE CADA GALLETA.







ESCRIBE EL NOMBRE DE CADA NÚMERO EN LA LÍNEA PUNTEADA.







COLOREA RESPETANDO EL SIGUIENTE CÓDIGO.



- DEL 1 AL 10: AMARILLO
- DEL 11 AL 20: NARANJA
- DEL 21 AL 30: ROJO
- DEL 31 AL 40: ROSA
- DEL 41 AL 50: VIOLETA
- DEL 51 AL 60: AZUL
- DEL 61 AL 70: CELESTE
- DEL 71 AL 80: VERDE CLARO
- DEL 81 AL 90: VERDE OSCURO
- DEL 91 AL 100: MARRÓN




MAYOR A MENOR



ORDENA LOS SIGUIENTES NÚMEROS DE MAYOR A MENOR
DENTRO DE LAS TAZAS.



53 15 69 27 71 45 99 36
82 100 24 47 73 91 50 39





SUMA, RESTA, ANTERIOR Y POSTERIOR



¡DIEZ MÁS, DIEZ MENOS, UNO MÁS, UNO MENOS!
COMPLETA SEGÚN CORRESPONDA TENIENDO EN CUENTA
EL NÚMERO CENTRAL.

1	2	3	4	5	6	7	8	9	10
11	12	13	14	15	16	17	18	19	20
21	22	23	24	25	26	27	28	29	30
31	32	33	34	35	36	37	38	39	40
41	42	43	44	45	46	47	48	49	50
51	52	53	54	55	56	57	58	59	60
61	62	63	64	65	66	67	68	69	70
71	72	73	74	75	76	77	78	79	80
81	82	83	84	85	86	87	88	89	90
91	92	93	94	95	96	97	98	99	100

DIEZ MENOS

UNO MENOS

32

UNO MÁS

DIEZ MENOS

UNO MENOS

87

UNO MÁS

DIEZ MÁS

DIEZ MÁS

DIEZ MENOS

UNO MENOS

14

UNO MÁS

UNO MENOS

66

UNO MÁS

DIEZ MÁS

DIEZ MENOS

DIEZ MENOS

DIEZ MENOS

DIEZ MENOS

DIEZ MÁS

UNO MENOS

38

UNO MÁS

UNO MENOS

25

UNO MÁS

UNO MENOS

43

UNO MÁS


DIEZ MÁS

DIEZ MÁS

DIEZ MÁS



SUMAS Y RESTAS




USANDO LA TABLA SUPERIOR, COMPLETA EL CUADRO INFERIOR.

1	2	3	4	5	6	7	8	9	10
11	12	13	14	15	16	17	18	19	20
21	22	23	24	25	26	27	28	29	30
31	32	33	34	35	36	37	38	39	40
41	42	43	44	45	46	47	48	49	50
51	52	53	54	55	56	57	58	59	60
61	62	63	64	65	66	67	68	69	70
71	72	73	74	75	76	77	78	79	80
81	82	83	84	85	86	87	88	89	90
91	92	93	94	95	96	97	98	99	100




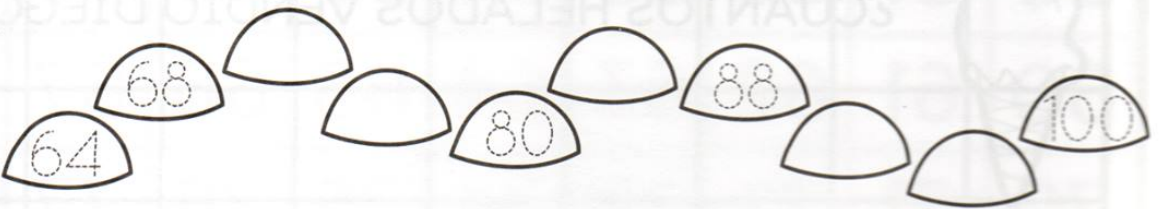


SI EMPIEZO EN EL	Y LE SUMO	LLEGO AL NÚMERO
15	32	
39	27	
57	43	
SI EMPIEZO EN EL	Y LE RESTO	LLEGO AL NÚMERO
98	46	
81	55	
73	15	






SECUENCIAS

AYUDA A ESTOS GRILLOS A LLEGAR A SU CASITA
RESPECTANDO LA SECUENCIA.



PROBLEMAS



RESUELVE LOS SIGUIENTES PROBLEMAS MATEMÁTICOS.

LA MAESTRA TENÍA UNA CAJA DE 30 TIZAS
Y EN LA SEMANA UTILIZÓ 6.
¿CUÁNTAS TIZAS LE QUEDAN?



MARÍA TENÍA \$ 50 Y SU MAMÁ LE REGALÓ \$ 10 MÁS.
¿CUÁNTO TIENE AHORA?





DIEGO VENDE HELADOS. LLEVÓ 50.
AL FINAL DEL DÍA LE QUEDABAN 12.
¿CUÁNTOS HELADOS VENDIÓ DIEGO?



MARTÍN ESTABA EN EL PISO 9 ESPERANDO EL ASCENSOR.
TENÍA QUE SUBIR 14 PISOS. ¿A QUÉ PISO IBA?



NÚMEROS DEL 1 AL 100




¡A JUGAR!

RECORTA LOS NÚMEROS INCLUIDOS EN ESTE LIBRO PARA HACER ESTE JUEGO. PONLOS BOCA ABAJO. CADA PARTICIPANTE DEBE COLOCAR UN PAPELITO DE COLOR O FICHITA EN LA SALIDA. POR TURNOS, DEBEN DAR VUELTA UNO DE LOS NÚMEROS. SI EL NÚMERO TIENE RAYITAS, AVANZAS, Y SI TIENE CIRCULITOS, RETROCEDES. SI TOCA RETROCEDER Y NO ALCANZAN LOS LUGARES, VUELVE A LA SALIDA. A MEDIDA QUE SE VAN USANDO, LOS NÚMEROS SE VAN DESCARTANDO. SI SE TERMINAN, SE VUELVEN A MEZCLAR Y A UTILIZAR. GANA EL QUE PRIMERO LLEGA AL CASILLERO DE LLEGADA.



	1	2	3	4	5	6	7	8	9
10	11	12	13	14	15	16	17	18	19
20	21	22	23	24	25	26	27	28	29
30	31	32	33	34	35	36	37	38	39
40	41	42	43	44	45	46	47	48	49
50	51	52	53	54	55	56	57	58	59
60	61	62	63	64	65	66	67	68	69
70	71	72	73	74	75	76	77	78	79
80	81	82	83	84	85	86	87	88	89
90	91	92	93	94	95	96	97	98	99

100
LLEGADA



RECORTES

11



12



13



14



15



16



17



18



19



20



16



17



18



19



20



21



22



23



24



25



26



27



28



29



30



31



32



33



34



35



36



37



38



39



40



RECORTES



41



42




43



44




44



46



46




47



48



49



1



2



3



4




5



1



2



3



4



5




6



7



8



9



10



6



7



8



9



10



11



12



13



14



15

